

موعد الامتحان : السبت 2020/10/3

مدة الامتحان : ساعة واحدة فقط




المملكة الأردنية الهاشمية

وزارة التربية والتعليم

منصة تلاخيص منهاج أردني

الامتحان الأول في مادة الرياضيات للصف السابع

العلامة



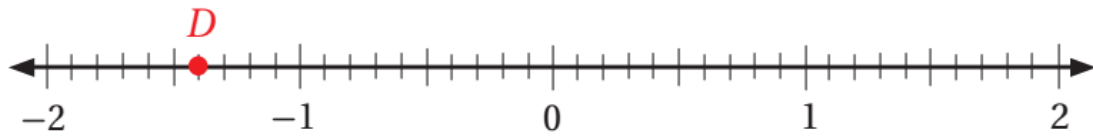
اسم الطالب :

الشعبة :



• ملحوظة : أجب عن الأسئلة الآتية جميعها وعددها (15) أسئلة ، علماً بأن عدد صفحات الامتحان (3).

سؤال 1 | العدد النسبي الذي يمثله الحرف (D) هو :



A) - 1.4

B) - 2.7

C) - 0.9

D) 1.4

سؤال 2 | يكتب العدد (10.9) على صورة كسر بسط ومقام :

A)  $\frac{109}{10}$ B)  $\frac{109}{100}$ C)  $\frac{9}{10}$ D)  $\frac{9}{100}$ 

سؤال 3 | القيمة المطلقة لمعكوس العدد (-0.3) هي :

A) - 0.3

B) + 0.3

C) 0

D) +3

سؤال 4 | تبلغ قيمة ما يأتي (  $| -1.5 | + | 0.5 \times (-8) |$  ) :

A) -2.5

B) 2.5

C) 5.5

D) -5.5

سؤال 5 | أحد الآتية يمثل الصورة العشرية للعدد النسبي (  $\frac{9}{20}$  ) :

A) 0.4

B) 0.29

C) 0.45

D) 0.92

سؤال 6 | في عام 2020 سُجل رقم قياسي لأطول شجرة زيتون إذ بلغ طولها (  $8\frac{1}{5}$  ) ما

العدد العشري الدال على طول النبتة ؟

A) 8.2

B) 8.25

C) 8.5

D) 8.55

سؤال 7 | إحدى الخيارات الآتية غير صحيحة :

A)  $\frac{5}{8} > \frac{3}{10}$       B)  $3\frac{1}{2} > \frac{3}{5}$       C)  $|\frac{1}{4}| > -0.5$       **D)  $|\frac{1}{3}| > 1.5$**

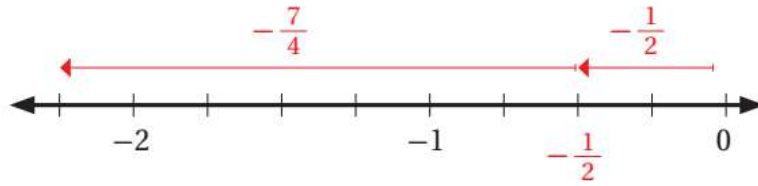
سؤال 8 | الترتيب التصاعدي الصحيح للأعداد (0.35 , 0.5 , 0.55 , -0.3) هو :

A) 0.5 , 0.55 , 0.35 , -0.3      **B) -0.3 , 0.35 , 0.5 , 0.55**  
C) 0.55 , 0.5 , 0.35 , -0.3      D) -0.3 , 0.35 , 0.55 , 0.5

سؤال 9 | ناتج العملية الحسابية الآتية  $(2.4 + -\frac{12}{5})$  هو :

A) -2.4      **B) 0**      C) 3.2      D) 0.3

سؤال 10 | العبارة العددية التي تمثل خط الأعداد في ما يأتي هي :



**A)  $-\frac{1}{2} - \frac{7}{4}$**       B)  $-\frac{7}{4} - \frac{1}{2}$       C) 0 - 3      D) 0 -  $\frac{1}{2}$

سؤال 11 | إذا ضرب عدد في (3) قم أضيف إلى ناتج الضرب (2) ثم ضرب الناتج الكلي

في  $(\frac{1}{2})$  وأصبح الناتج (4) فما ذلك العدد ؟

A) -2      **B) 2**      C) 1      D) 3

سؤال 12 | اشترك أربعة طلاب في شراء هدية لمعلمهم بالتساوي إضافة إلى دينار

ونصف ثمنًا لتغليف الهدية و (2.5) ثمنًا لتوصيلها فدفعوا (20) دينار ثمنًا للهدية ، جد

المبلغ الذي دفعه كل منهم بالدينار .

A) 3      B) 5      **C) 6**      D) 4

سؤال 13 | ناتج العملية الحسابية الآتية  $(3\frac{1}{2}) \times (\frac{6}{8})$  هو :

A)  $\frac{21}{8}$

B)  $\frac{42}{12}$

C)  $\frac{44}{16}$

D) 2.5

سؤال 14 | ناتج العملية الحسابية الآتية  $(6 \div \frac{2}{9})$  هو :

A) 3

B) 54

C) 12

D) 27

سؤال 15 | ناتج العملية الحسابية الآتية  $(\frac{8}{26} - \frac{4}{13})$  هو :

A) - 3

B) 7

C) 0

D) 2

منهاجي  
متعة التعليم الهادف



ما هو مدى رضاك عن مستوى الامتحان؟



معلش



أحببته



أضحكني



Error 404



أحزنتني



أغضبني



وفقكم الله وسدد خطاكم ونفع الله بعلمكم وعملكم  
الأستاذ معاذ أمجد أبو يحيى